

2020年贵州省全省事业单位联考真题

1. 本项测验共 82 道题，总时限 150 分钟。
2. 请用黑色字迹的钢笔、签字笔或圆珠笔将姓名与准考证号在指定位置上填写清楚。
3. 监考人员宣布考试开始时，你才可以开始答题。
4. 监考老师宣布考试结束时，你应立即停止作答，待监考人员允许离开后，方可离开考场。
5. 在本项测验中，可能有一些试题较难，因此你不要再某一道题上思考太长时间，遇到不会答的题目，可先跳过去，如果有时间再去思考。否则，你可能没有时间完成后面的题目。

一、单选题（60 个小题，每题一分，共 60 分）

1. 近日，面对餐饮浪费现象，习近平总书记作出重要指示，强调在全社会营造浪费可耻、节约为荣的氛围。下列与习总书记讲话含义相符的是（ ）

- ①一粥一饭，当思来之不易
- ②俭，德之共也；侈，恶之大也
- ③仓廩实而知礼节
- ④民生在勤，勤则不匮

A. ①② B. ②③ C. ②④ D. ①④

参考答案：A

2. 2020 年 5 月，人社部印发《关于开展“人社服务快办行动”的通知》。“人社服务快办行动”明确提出了三项主要任务，一是打包办，是将流程相似、材料相近、结果关联

的 10 个以上企业群众眼里的“一件事”打包联办，二是提速办，就是加快部分高频服务事项办理速度；三是简便办，是指不断推进办事材料“能减尽减”，落实已取消证明事项材料有关要求。此举的意义在于（ ）

- A. 转变政府职能，提高服务效率
- B. 减少财政支出，降低管理成本
- C. 保障群众利益，弱化政府权威
- D. 消除社会矛盾，维护群众权利

参考答案：A

3. 维护宪法尊严，保障宪法实施是每个公民的义务，下列做法正确的是（ ）

- A. 某超市保安怀疑刘某盗窃，将其带至办公室搜身
- B. 某市政府在决策时按要求举行听证会，广泛听取群众意见
- C. 周某在街上看到有人损毁国旗但并未制止
- D. 考上公务员的小陈不愿参加单位新入职干部宪法宣誓仪式

参考答案：B

4. 下列与手机芯片相关的表述，正确的是（ ）

- A. 华为拥有麒麟 9000 芯片的完全自主知识产权
- B. 英特尔公司为世界上 90% 的手机提供芯片
- C. 世界上唯一能提供 7 纳米及以下光刻机的企业位于荷兰
- D. 美国企业可以生产纯度最高的集成电路中的半导体级硅晶片

参考答案：C

5. 根据《党政机关公文处理工作条例》涉密公文应当根据涉密程度分别标注“绝密”“机密”“秘密”和（ ）

- A. 保密期限
- B. 知晓范围
- C. 紧急程度
- D. 抄送机关

参考答案：A

6.截止 2020 年 8 月, 下列选项错误的是 ()

- A.日本首相中连续任职时间最长的是安倍晋三
- B.欧盟已正式批准英国脱欧, 英国现已正式脱欧
- C.世界三大 5G 设备公司分别是:华为、爱立信、诺基亚
- D.2020 年二季度, 美国国内生产总值按年率计算维持与上年不变

参考答案: D

7.中秋节前, 市场上出现了许多包装精美的高价月饼。要使高价月饼物有所值, 必须切实提高质量, 保证货真价实。这表明 ()

- A. 商品价值量是由使用价值决定的
- B. 只有用于交换的劳动产品才是商品
- C. 商品交换价值是使用价值的基础
- D. 商品使用价值是价值的物质承担者

参考答案: D

8.《中华人民共和国民法典》已经颁布, 下列内容不属于《民法典》新内容的是 ()

- A.对居住权这一新型 用益物权作出了规定
- B.设立了 30 天的离婚冷静期
- C.侵权责任中新增了生态破坏责任
- D.限制行为能力人的法定年龄下限调整为 8 岁

参考答案: D

9、下列有关传统文化知识表述不正确的一项是 ()

- A. "四大名只" 是指梅兰芳、尚小云、程砚秋、荀慧生
- B. "五经" 是指《诗经》《尚书》《礼记》《周易》《春秋》

C.五禽戏主要包括虎戏、龟戏、熊戏、猿戏、鸟戏

D.元杂剧四大悲剧是指《窦娥冤》《汉宫秋》《梧桐雨》《赵氏孤儿》

参考答案： C

10. 我国有 56 个民族,各个少数民族都有自己的传统节日。下列少数民族与其主要分布地区、传统节日对应正确的一项是 ()

A. 傣族-广西-泼水节

B. 维族-新疆-那达慕

C. 彝族-四川-火把节教作

D. 侗族-贵州-姊妹节

参考答案： C

11. 萤火虫求偶时,雌雄之间会发出特异的闪光信号以吸引异性并交尾。然而城市的亮光_____了它们的闪光交流。当萤火虫感知到外界灯光时,就会停止发光、飞行、求偶,最终导致种群减少甚至灭绝。那些普在林间泽畔熠熠宵行的萤火虫,如今已与我们_____。依次填入画横线部分最恰当的一项是 ()。

A. 打断 共生共存 B.加强 背道而行

B. 影响 相伴相行 D.干扰 渐行渐远

参考答案： D

12. 中国园林中的叠石、假山、水体虽由人工建造,却不露人工痕迹,无不拟仿自然界中万物的本来面貌,分布完全采用树无行次、石无定位、花草_____的布局,极力呈现一幅不假借于人力的自然百态图。即使是园林中的建筑物,也是置于山水之间,按照山水的总体走势,高低曲折、_____地点缀其间,以更突显自然山水的艺术情趣。依次填入画横线部分最恰当的一项是 ()。

A. 匠心独具 自由自在 B.精心安排 疏密有致

B. 井然有序 星罗棋布 D.野趣横生 参差错落

参考答案：D

13. 唐太宗的年号是“贞观”取自《周易系辞》“贞”是正的意思，“观”就是示，“贞观”的意思是示人以正、正大光明，具有强烈的政治含义，表明太宗即位之初，就已经决心要当一个了。填入画横线部分最恰当的选项是目（ ）

A. 明君 B.圣人 C.仁君 D.霸主

参考答案：A

14.互动电影的妙处就在于，一切选择都在于你。在面对突发状况时，是选择偷车还是逃跑在面临生命威胁时，是选择乖乖配合还是起反抗？在短短几秒钟内，观众必须按下按钮，而一个个看似的决定最后会累积成截然不同的结果。依次填入画横线部分最恰当的一项是（ ）

A.深思熟虑 无关紧要 B.当机立断 微不足道

C.不假思索 荒诞不经 D.眼疾手快 漫不经心

参考答案：B

14. 操场上有一排树，本应该活得才是，可它们的样子，一点也不散淡。这几年，它们一直暗地里憋着劲儿长，个个很粗壮，一副谁也不服谁的姿态。有几棵长得甚至有点不讲理，不仅腰粗，树冠也大，往这家伸条枝柯，又往那家伸条枝柯。那些被挤得相对瘦弱的，就使劲往上蹿个儿梢头锋利，直刺天空，_____着臃肿的众生。依次填入画横线部分最恰当的一项是（ ）

A. 与世无争 睥睨 B.随遇而安 仰视

B. 无拘无束 眺望 D.肆意妄为 傲视

参考答案： A

15. 现在是一个信息过载的时代，从海量信息中、去伪存真、分析处理、归纳总结，是一个人的基本科学素养。但舆论场上，却常常发生这样的认知谬误：陈述的都是事实，但这些事实之间并无因果关系，生生地创造出来一种伪因果关系也恰恰是这种假性因果联系最具有，甚至成了一些“10万”爆文的编造套路。依次填入画横线部分最恰当的一项是（ ）

- A. 追根溯源 复杂性 B. 去芜存菁 确定性
C. 顺藤摸瓜 针对性 D. 抽丝剥茧 迷惑性

参考答案： D

17. 防卫行为具有天然的_____如果司法实践为防卫行为秤斤量两以确定其“正当”与否，就无疑为正义加上了笼头，限制了防卫行为的实施。这样衡量的结果，就是犯罪行为实施者可以无所顾忌，防卫者却反倒要_____。让防卫行为变成犯罪行为的不确定_____的风险，这样更能阻吓犯罪，打消犯罪者的犯罪动机。依次填入画横线部分最恰当的一项是（ ）

- A. 合理性 忍气吞声 未来 B. 局限性 畏首畏尾 规则
C. 正当性 瞻前顾后 边界 D. 复杂性 固步自封 范围

参考答案： C

18. 一般认为，甲骨文是商周时期刻在龟甲兽骨上的文字。从1899年王懿荣发现甲骨文，迄今收集到甲骨片约15-16万片，约4500字，记录了殷商时期社会王室世系、祭祀、战争、农业、手工业、渔猎、教育、周边民族等内容，以此为研究基础形成了一门专门的学问-甲骨学。这段文字没有提及的内容是（ ）

- A. 甲骨文的定义 B. 甲骨文的研究方法
B. 甲骨学的含义 D. 甲骨文记载的内容

参考答案：B

19. 范仲淹写《岳阳楼记》的时候，不在岳阳，他对岳阳楼四周景色的描写，完全出诸想象这真是不可思议的事。他没有到过岳阳，可是比许多久住岳阳的人看到的还要真切。岳阳的景色是想象的，但“先天下之忧而忧，后天下之乐而乐”的思想却是久经考虑的，出于胸臆的，真实的深刻的。看来一篇文章最重要的是思想，有了独特的思想，才能调动想象，才能把在别处所得到的印象概括集中起来。范仲淹虽可能没有看到洞庭湖，但他看到过很多巨浸大泽。他是吴县人，太湖是一定看过的。我很怀疑他对洞庭湖的描写，有些是从太湖印象用过来的。我们可以从这段文字中推导出（ ）。

- A. 有重要思想就能写出好文章
- B. 没有身临其境就写不出好的文章
- C. 写好文章一定要有充分的想象
- D. 一个人的生活经历对写作很重要

参考答案：C

20. 以吐鲁番为代表的古代丝绸之路西域段，流行的宗教是汉传佛教。这种类型的佛教是经过汉文化(特别是儒家文化)改造之后，倒流回传到西域，其最大的特点之一就是强调“孝”。尤其是在中古时期的中国北方和丝绸之路.上,大众信佛的目的不是为了精通佛教的高深义理，而是为了做功德，而做功德的目的就是尽孝;无论是捐资造寺，还是写经做法，其目的往往是以此换取父母身体健康，或是慎终追远怀念双亲亡灵。这段文字的核心观点是（ ）

- A."孝" 价值标准的确立与佛教密不可分
- B.佛教对“孝”的尊崇使它得以在中国广泛传播
- C.佛教的丝路传播史就是孝道观念的演变史
- D.重视孝道是汉传佛教的重要特色

参考答案：D

21.①心理学家通过对实验数据的分析发现，人们更愿意相信符合他们政治立场或者世界观的假照片 ②一家杂志做过一项实验。向读者展示真实事件的照片以及 5 张随机选择的仿造照片 ③也就是说，符合你立场的假新闻，更容易被相信 ④立场会影响我们对新闻的判断 ⑤总体来看，有将近半的参与者相信，假照片里描绘的事件的确发生过 ⑥结果发现，平均每张假照片都会给至少 15%的人植入错误的记忆 将以上六个句子重新排列，语序正确的是：（ ）

- A. ④①②③⑤⑥ B. ②⑥③④⑤①
B. ②⑤⑥①③④ D. ④②⑥⑤①③

参考答案：D

22. 有关“琵琶”的记载最早出现在东汉刘熙《释名》一书中：“推手前曰批，引手却曰把。”意即向前弹出称作批，向后挑进称作把；根据它演奏的特点而命名为“批把”。但当时的琵琶形状与现在不同，其形状为直颈，圆形音箱，音位和弦数不固定。这种琵琶当时被称作“秦琵琶”或“秦汉子”，实际上它就是今天我国民乐器中阮的前身。到了元五、六世纪，从西域即中亚地区传入了一种曲颈琵琶，梨形音箱，原来的琵琶之名就让给了这种曲颈琵琶。琵琶发展到公元七、八世纪即中国南唐时代出现了一个高峰。根据上述文字，下列选项不正确的是（ ）。

- A. 东汉时期琵琶已经有统一的弦数
B. 汉代的“秦琵琶”是今天“阮”的前身
C. 今天我们所说的琵琶是外来乐器
D. 曲颈琵琶在唐代非常流行

参考答案：A

23. 众所周知，一进入网络时代，知识或信息的生产机制、传播机制都在发生着不同以往的巨大变化。依托于互联网提供的便利，越来越多的普通人成为了信息传播源和知识生产者。而随着互联网技术与生活的融合程度越来越深，我们也深刻地认识到，互联网如一片浩瀚无边的信息海洋，自带信息提纯和净化的功能。一般而言，参与信息传播互动的人趣多，虚假信息被淘汰的可能也就越大。特别是专业的知识交流平台上的频繁问答与互动，无形中构成了一种讨论和辩证的良性循环，推动人们的认识不断趋于理性、客观、科学。根据上述文字，我们可以知道（ ）

- A. 互联网的专业性让普通人很难成为信息传播源
- B. 互联网海量的信息越来越虚假，可信度也很低
- C. 互联网上相关信息被讨论越多越可能呈现真相
- D. 互联网专业平台发布的信息一般来说比较可靠

参考答案： C

24. 贵州民族文化源远流长，丰富多彩，是中华民族文化宝库中的瑰宝之一。山多洞穴多，温和湿润的自然环境，五大古族长期交往、结集的社会历史背景，铸就了贵州民族文化诸多的特色和深厚的底蕴。山川的纵横交错虽不便于交通，客观上却有利于民族文化的积淀与传承。各民族大杂居小聚居的分布格局以及与内地联系的日趋加强，促进了民族文化的传播和变异。贵州民族文化在特定的自然生态和社会生态的静与动之中，和谐而有序地发展变化着。这段文字意在说明（ ）

- A. 贵州民族文化的历史十分久远
- B. 贵州民族文化和谐而有序发展的原因
- C. 贵州民族文化的积淀与传承的条件
- D. 贵州民族文化的形成取决于独特的自然环境

参考答案： B

25. 某公司组织员工游湖，共使用六条游船分三批出发。已知游船分别搭载了 15、16、18、20、21 和 30 人，前两批共使用了五艘游船，且第一批出发的人数是第二批的 2 倍。则最后出发的有多少人？（ ）

A.16 B.18 C.20 D.21

参考答案： D

26. 某航空公司从背景飞往贵阳的航班工作日乘客人数统计表如下图所示，其中有几个数字被被污渍遮挡。则根据这张统计表，该星期二的乘客人数为多少人？（ ）

A.162 B.164 C.166 D.168

参考答案： B

27. 某农场建造了面积为 150 平方米长方形的大棚种植蔬菜，并将其分割为两块长方形区域分别种植生菜和白菜。种植生菜的区域宽为 7 米，种植白菜面积为 115 平方米。则该大棚周长为多少米？（ ）

A.64 B.70 C.80 D.81

参考答案： B

28. 某工厂生产一种产品需要经过两个步骤，步骤一每小时加工 250 个，将所有产品加工完之后立即进行步骤二，步骤二每小时可加工 400 个，合计使用了 52 个小时完成该批产品工。则该批产品共有多少个？（ ）

A.6000 B.7500 C.8000 D.8100

参考答案： C

29. 已知某合唱队分为三个声部共有 144 人，先从第一声部中挑出与第二声部人数相同的人并入第二声部再从第二声部中挑选出与第三声部人数相同的人并入第三声部:最后再 从第三声部中挑选出与此议时第一声部人数相同的人并入第一-声部， 此时各个声部人 数相同。那么，原来第-声部有多少人? ()

A.36 B.42 C.66 D.68

参考答案: C

30. 某超市采购一批饼干，在运输过程中有部分因挤压受损。将包装完好的饼干售出，利润率为 40%;将包装受损的饼干降价后售出，亏损了 15%。最后结算得知该批饼干总的利润率为 20.2%。则该批饼干中包装完好部分的占比范围是 ()

A. 低于 50%- B.50%~ 60% C.60% ~70% D.高于 70%

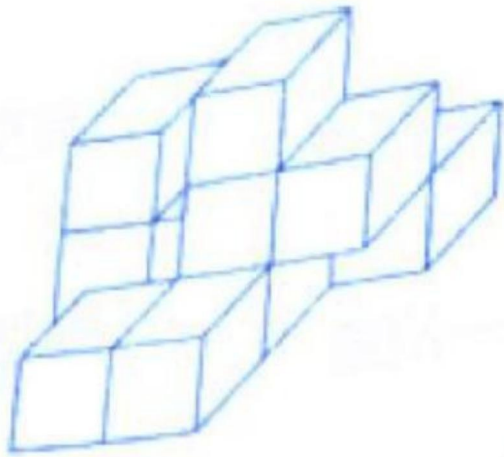
参考答案: C

31. 学生甲、乙可自行决定课后是否参加体育锻炼，已知甲参加体育锻炼的概率为 0.4, 乙参加体育锻炼的概率为 0.3, 则两人都不参加体育锻炼的概率在下列哪个范围内? (C)

A. 低于 0.3 B.0.3~0.4 C.0.4-0.5 D.高于 0.5

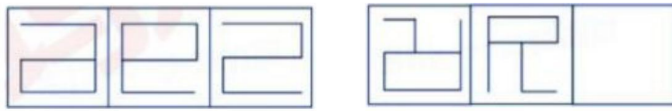
参考答案: C

32. 下面图形是由大小相同正方形的立体图形，从正视图看有 8 个小方块，如果从左面看有 (B) 个。



A.5 B.6 C.7 D.8

33. 请从给定的四个选项中, 选择最合适的一项填入问号处, 使之呈现一定的规律。(D)



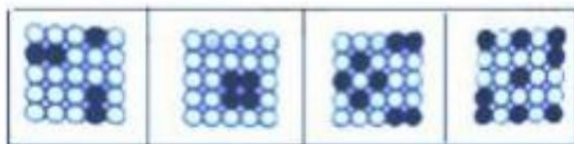
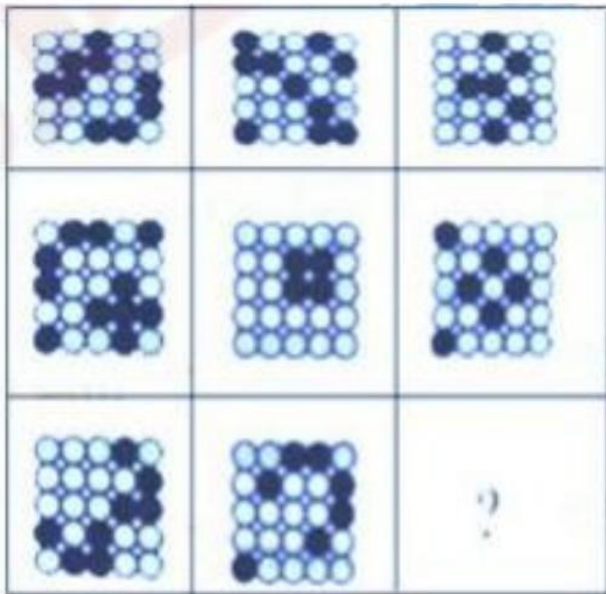
A B C D

34. 根据下列图形中出现的规律, 问号处应该填入的是: (B)



A B C D

35. 根据下列图形中出现的规律，问号处应该填入的是：(C)



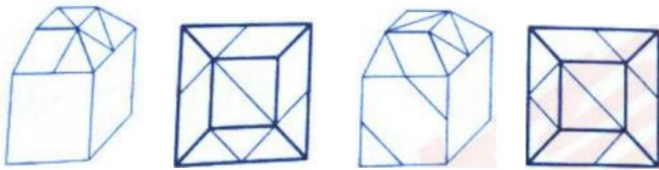
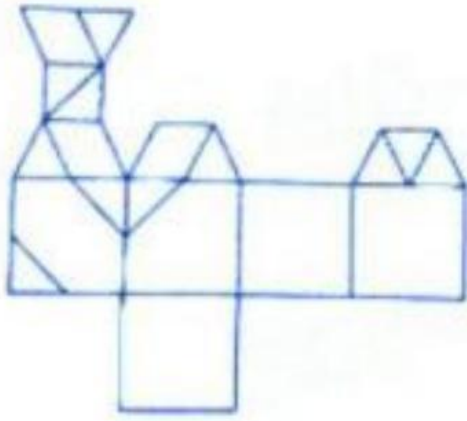
A

B

C

D

36. 将下列所示纸壳外表面折叠后可得到一立方体图形，该立方体图形的视图正确的是 (B)



A

B

C

D

37. 大象: 仓鼠 ()

A. 鲸鱼:花生 B.月季:玫瑰 C.太阴:月亮 D.西瓜:樱桃

参考答案: D

38. 青天:白日 ()

A.桃红:柳绿 B.落叶:归根

C.绿水:青山 D.紫气:东来

参考答案: C

39 盈利:亏损 ()

A. 风险:收入 B.投入:产出 C.支出:消费 D.富裕:贫穷

参考答案： D

39. 吸烟:疾病:戒烟 ()

A. 洪水:灾难:抗洪 B. 化妆:美丽:卸妆 C. 着凉:生病:痊愈 D. 新闻:时效:播报

参考答案： A

41 燃眉之急:急功近利 ()

A. 悬崖勒马:马失前蹄 B. 难言之隐:隐姓埋名
B. 待价而沽:地大物博 D. 徒有虚名:虚有其表

参考答案： B

42.面粉:蛋糕:浆糊 ()

A. 鲜花:花粉:蜂蜜 B. 玉米:白酒:小麦
C. 钢材:汽车:飞机 D. 轨道:火车:地铁

参考答案： C

43. 谦虚之与()相当于()之粗枝大叶 ()

A. 自满:马马虎虎 B. 自负:一丝不苟
B. 性格:小心谨慎 D. 拘谨:一板一眼

参考答案： B

44. 遗传之于()相当于()之于浮力 ()

A. 身高:密度 B. 变异:质量 C. 基因:引力 D. 体重:成就

参考答案： C

45. 自然人在涉外民事关系产生或者变更、终止时已经连续居住一年以上且作为其生活中心的地方是自然人的长居所地，但就医、劳务派遣、公务等情形除外。郭某出生在中国 S 市且户籍也在该地 2008 年 3 月到 B 国留学 2016 年 5 月毕业回国，受聘于某公

司并居住在 G 市，2018 年 1 月被公司派遣到 C 国工作，2019 年 3 月回到 G 市，转而受聘于一家澳门公司，每周一到周五在澳门上班周五晚上回 S 市与家人团聚。根据上述定义对张某经常居所地认定正确的是（ ）

- A. 从 2016 年 5 月至今一直在 G 市
- B. 2016 年 4 月在 S 市
- C. 2019 年 2 月在 C 国
- D. 目前在澳门

参考答案： A

46、自首是指犯罪后自动投案，向公安、司法机关或其他有关机关如实供述自己的罪行的行为。被采取强制措施的犯罪嫌疑人... 根据上述定义，下列选项中成立自首的是（ ）。

- A、甲挪用公款后主动向单位领导承认了全部犯罪事实，但请求领导不要将自己移送司法机关
- B、甲敲诈勒索乙后向公安机关自动投案并如实供述自己的罪行，但拒绝退还脏物。
- C、甲和乙共同盗窃，当被公安机关讯问时，甲对盗窃一事未提及，但主动向公安机关反映乙诈骗了丙五千元。
- D、甲因购买赵某的海洛因被抓获后，配合司法机关向赵某“报平安”，赵某等待甲时被抓获。

参考答案： B

47、回溯推理法就是从事物表现出的结果推导导致这种结果的原因或条件的一种推理方法。根据上述定义，下列属于回溯推理法的是（ ）。

- A、月到中秋分外明
- B、一叶落而知天下秋

C、久晴大雾雨，久雨大雾晴 D、霜后准天晴，瑞雪兆丰年

参考答案：B

48、强迫症重复是指人们会主动地追求重复一些情景，不断地体验其中的一些感受。

根据上述定义，下列不属于强迫症重复的是（ ）

A、小李的女朋友都是姐姐型的、会照顾人的女孩，因为他觉得这些女孩身上有他妈妈的影子

B、2岁的贝贝总是把他最喜欢的玩具从小床中扔出去，再哭闹着把玩具要回来，不断重复，搞得大人疲惫不堪。

C、鲁迅笔下的祥林嫂因为自己的疏忽大意导致儿子阿毛被狼吃了，悲伤过度的她逢人便讲这个故事。

D、希腊神话中诸神惩罚西西弗斯推一块巨石到山顶，然后再让巨石从山顶滚落，西西弗斯要永远重复这个推石头动作。

参考答案：D

49、群体极化是指群体成员中原已存在的倾向性得到加强。根据上述定义，下列选项符合群体极化的是（ ）。

A、某班竞选班长，张平和李全的支持率分别是70%和30%，本着少数服从多数的原则，张平当选班长。

B、某企业准备投资新项目，甲项目投资收益率较高，但风险较大；乙项目投资收益率较低，但风险较小，经小组反复讨论，投资甲项目的支持率由52%上升到87%。

C、小刚喜欢冒险，他想选择有兴趣但风险高的工作；小彤喜欢平稳，她想选择平稳而兴趣不大的工作。经过两人讨论后，小刚接受了小彤的观点。

D、钱工程师准备去一家收入更高但不稳定的公司工作。他征求可 5 个朋友的意见，有 4 个朋友都主张不换工作，于是他决定不换工作。

参考答案：B

50、超限效应，是指刺激过多、过强和作用时间过久而引起心理极不耐烦或反抗的现象。根据上述定义，下列不属于超限效应的是（ ）

- A、某微商在朋友圈频频刷屏，打广告，朋友将其拉黑。
- B、某明星的大量粉丝涌入某论坛发帖，引起圈外人对该明星的抵制。
- C、某网红在自己的微博上猛打广告，收到网友的投诉。
- D、某网友在群里发言比较激进，群主频繁提醒其注意发言态度。

参考答案：D

51、相邻关系，又称相邻权，两个或两个以上相互毗邻的不动产所有人或使用人之间。下列选项中甲可以因相邻权受损而向乙主张排除妨碍的是（ ）。

- A、甲承租了乙的房屋，因为相邻的丙将房屋加层而使该房屋的通风采光受到损害。
- B、甲乙的房屋前后相邻，乙在自己房屋前修建一座风车，甲认为严重影响了自己房屋的风
- C、某地日照标准为冬至日满窗日照 1 小时。甲房屋原来冬至日满窗日照为 2 小时，乙房屋合法建成后，导致甲冬至日满窗日照降为 1.5 小时。
- D、乙在自己的责任田里种了五棵大树，遮挡了旁边甲责任田的日照，导致甲的责任田减产。

参考答案：C

52、在某神经网络中有甲、乙、丙、丁四种计算组件，将一个数输入一个计算组件后会输出一个数作为结果。已知计算组件计算规则如下：

装置甲:对输入的数加上 7

装置乙:对输入的数除以 2

装置丙:对输入的数减去 4

装置丁:对输入的数乘以 3

这些装置可以前后连接,如装置甲后面连接乙可写成甲 O 乙,此时将 1 输入甲,则乙 输出为 4。根据以上模式,若经过乙 O 丁 O 甲丙之后,输出的结果为 54,则输入为()。

A、 21 B、 34 C、 47 D、 56

参考答案: B

53.最近,一项研究发现了除视觉、听觉、嗅觉、触觉和味觉外...站姿则会让他们觉得食物没那么难吃。以下选项没有正确运用上述论断的是()。

A、提供免费试吃的商家通常会给顾客提供一个能坐着吃的环境。

B、让孩子老老实实坐着吃不好吃的食物能让他们吃得更多。

C、如果觉得正在服用的药太难吃,可以尝试站着服药。

D、如果你想限制摄入的食物量达到减肥目的,最好站着进食。

参考答案: B

54.大家往往认为,穿着深色面料的衣服,由于衣服大量吸收外界的热量,人就会感到十分热,而穿着浅色的衣服时,衣服能反射热量,人从而觉得凉爽,所以夏天穿浅色的衣服比穿深色的衣服更凉快。以下说法如果为真,不能质疑上述结论的是()

A.黑色衣服虽然会吸收更多的热量,但同时也会吸收人身体的热量

B.在炎热的天气中,只要衣服宽松,无论穿的是黑色还是白色的衣服,人的感觉都不会有太大差别

C.在炎热干旱的阿拉伯地区，受历史、文化、地理等多种因素的影响，很多人都会选择穿黑色的长袍 D.穿着白色长袍和黑色长袍站在烈日下暴晒 30 分钟，然后测量两种长袍的温度，结果 发现差异几乎为 0

参考答案： C

55. 世界卫生组织和联合国儿童基金会新生儿照顾和母乳喂养国际倡议专家称... ..根据上述材料，能推出的结论是（ ）。

- A、新冠肺炎疫情是全球母乳喂养婴儿的数量下降。
- B、无论其母亲是否感染新冠病毒，通过母乳喂养的婴儿都不会感染新冠病毒。
- C、母亲感染新冠病毒，应在严格保证卫生安全的情况下挤出母乳喂养婴儿。
- D、对于新生儿和婴儿来说，母乳是预防病毒和细菌性呼吸道疾病的保护盾。

参考答案： D

56. 今年以来，面对新冠肺炎疫情带来的严峻考验和复杂多变的国内外环境... ..若以下各项均为真，最能支持该论点的是（ ）。

- A. 目前我国商业银行面临的实际风险尚未全面反映。
- B. 今年二季度，商业银行贷款损失准备较上季度更充足。
- C.2020 年上半年，商业银行向小微企业贷款总额增加了 32 亿元。
- C. 银保监会已经采取多项措施，以应对银行业不良资产大幅增长。

参考答案： B

57. 某大学自习室里有 5 个中文系的学生，4 个东北人，3 个篮球爱好者，2 个哈尔滨人。以上叙述涉及了这个自习室里所有的同学，其中 2 个来自哈尔滨的同学不是中文系的。那么这个自习室的人数是（ ）。

- A. 最多 14 人，最少 5 人。 B.最多 12 人，最少 7 人。

B. 最多 12 人, 最少 5 人。 D. 最多 14 人, 最少 7 人。

参考答案: B

57. 四个人在一起猜测一部电影中男主角的年纪。老张: 他不会超过 25 岁; 老王: 他不会超过 35 岁; 老李: 他肯定在 35 岁以上; 老赵: 他的年纪在 40 岁以下。若他们中只有一人说对了, 则 ()。

A. 老张说对了。

B. 男主角的年龄在 40 岁以上。

C. 男主角的年纪在 35~40 岁之间。

D. 老赵说对了。

参考答案: B

59. 老赵、老杨、老胡三人中有一个是农夫、一个是樵夫、一个是大夫, 他们由东向西 相邻而居在一条通往三角的路边。老赵说: 老杨生病时还是我去给她找的大夫。第 24 页 樵夫说: 我每次从山上砍完柴回家, 都要经过老杨家。大夫说: 我家隔壁只有老赵一家。根据以上信息, 住在离山脚最近的一家是 ()。

A. 老赵 B. 老杨 C. 老胡 D. 不能确定

参考答案: C

60. 甲、乙、丙和丁是某公司销售员, 已知公司派遣其中两人前往广州的 A、B 公司, 另两人前往上海的 C、D 公司扩展业务, 要求甲、丙分成一组, 乙、丁分成一组且每人各负责一家公司。已知甲没有去 A 公司, 乙没有去 B 公司; 丙没有去 C 公司; 丁没有去 D 公司。根据以上陈述肯定可以得出 ()。

A. 甲没有去 B 公司。 B. 乙没有去 A 公司。

B. 丙没有去 D 公司。 D. 丁没有去 A 公司。

参考答案：D

二、多选题（共 10 个小题，每题 2 分，共 20 分）

61. 关于我国北斗全球卫星导航系统，下列说法正确的有（ ）。

- A. 北斗三号全球卫星导航系统将于 2020 年 12 月 31 日建成。
- B. 北斗系统不仅具有极高的精确度，还可以提供 1200 个汉字的短消息以及图像传输。
- C. 北斗系统已经在巴基斯坦、泰国等多个“一带一路”合作国家得到实际应用。
- D. 北斗系统是我国第一个全面向全球提供公共服务的重大空间基础设施。

答案：BCD

62. 中国人有很多关于珍惜时间的表述，下列诗文主旨劝人惜时的有（ ）

- A. 劝君莫惜金缕衣，劝君惜取少年时。
- B. 少小离家老大回，乡音无改鬓毛衰。
- C. 光景不待人，须臾发成丝。
- D. 尺璧非宝，寸阴是竞

答案：ACD

63. 2020 年 8 月 24 日（农历七月初六）是今年初伏的日子，一年中最热的时节已然过去，下列关于三伏说法正确的有（ ）

- A. 每年三伏天的气候特点是气温高、气压低、湿度大、风速小
- B. 三伏期间太阳直射点会向北回归线移动
- C. 三伏天一般出现在小暑与处暑节气之间

D.夏至以后的第三个庚日为初伏开始日期

答案：ACD

64. 荷花在中国传统文化中是高洁的象征,下面选项中涉及荷花的有 ()

A.藕田成片傍湖边,隐约花红点点连

B.菡萏香销翠叶残,西风愁起绿波间

C.翻空白鸟时时见,照水红蕖细细香

D.凌波仙子生尘袜,水上轻盈步微月

答案：ABC

65. 一日,王某在家洗澡时,其在甲商场乙销售商处购买的、丙运输公司承运的J企业生产的水器突然爆炸,王某被水器零件砸中头部导致重伤。后经专家鉴定,水器发生爆炸 是产品设计缺陷导致,本案中,王某有权向 () 主张权利。

A. 甲商场 B.乙销售商 C.丙运输公司 D.丁企业

答案：BD

66. 下列古曲与创作者对应关系正确的有 () 。

A.高山流水-伯牙 B.阳春白雪-阮籍 C.广陵散-嵇康 D.汉宫秋月-蔡文姬

答案：AC

67.文学艺术创造、哲学社会科学研究首先要搞清楚为谁创作、为谁立言的问题,这是个 根本问题。人民是创作的源头活水,只有扎根人民,创作才能获得取之不尽、用之

不竭的源泉。文化文艺工作者要走进实践深处,观照人民生活,表达人民心声,用心用情用功抒写人民、描绘人民、歌唱人民。哲学社会科学工作者要多到实地调查研究,了解百姓生活状况、把群众思想脉搏,着眼群众需要解疑释惑、阐明道理,把学问写进群众心坎里。这集中反映了()

- A.一切从实际出发的工作要求
- B.党的群众观点和群众路线
- C.量变引起质变的辩证过程
- D.客观精神的外化过程

答案: ABD

68. 8月20日,我国成功发射了首颗民用高分辨率遥感卫星“高分七号”。关于高分七号卫星,这段文字没有提及的内容有()。

- A. 发射时间
- B. 工作原理
- C. 载荷设备
- D. 应用领域

答案: ABC

69. 南海自古以来就是中国的领土,下列选项正确的有()

- A. 中国南海海域是我国面积最大、深度最深的海域
- B. 与中国在南海相邻的国家有越南、菲律宾、马来西亚、老挝
- C. 南海诸岛包括:东沙群岛、西沙群岛、中沙群岛和南沙群岛
- D. 西沙群岛、中沙群岛、南沙群岛的岛礁及其海域现由三沙市管辖

答案: ACD

70.我国是一个多民族国家,关于少数民族的饮食习惯,下列选项中描述正确的是()。

A.回族禁食一切自死的动物,禁食一切形象丑恶的飞禽走兽

B.维吾尔族以面食为主,喜食牛、羊肉。最常吃的有馕、羊肉抓饭、包子、面条等

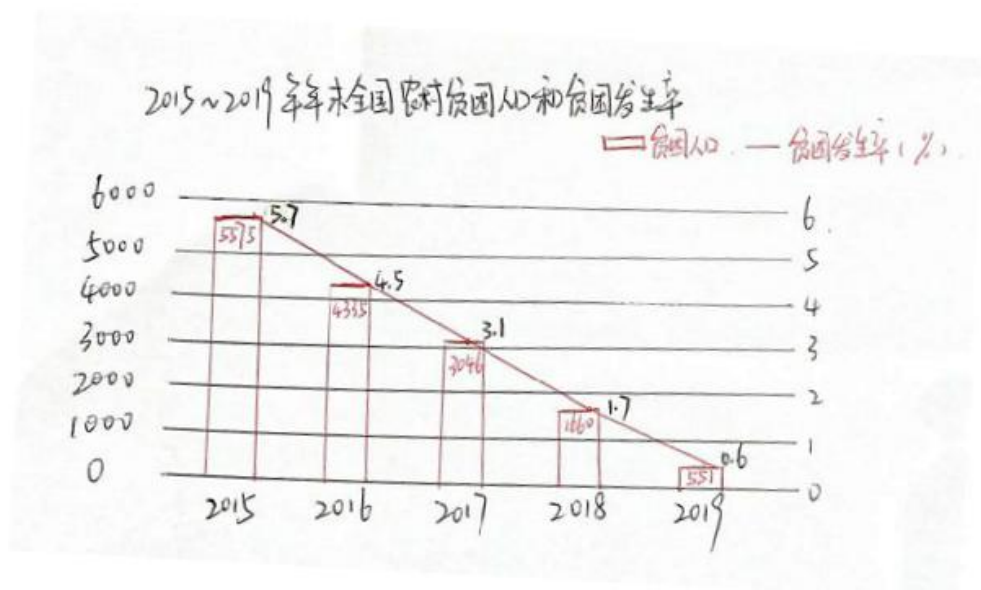
C.手扒肉、烤羊肉、青稞酒是蒙古族日常生活最喜欢的待客佳肴和饮品

D.面食是朝鲜族的主食,口味以甜辣为主,咸菜品种丰富,式样美观,非常可口

答案: AB

三、资料分析题 (共 10 小题, 每题 2 分, 共 20 分)

材料一 2019 年, 全年全国居民人均可支配收入 30733 元, 比上年增长 8.9%。按常住地分, 城镇居民人均可支配收入 42359 元, 比上年增长 7.9%。城镇居民人均可支配收入中位数 39244 元, 比上年增长 7.8%。农村居民人均可支配收入 16021 元, 比上年增长 9.6%, 扣除价格因素, 实际比上年增长 6.2%。农村居民人均可支配收入也位数 14389 元, 比上年增长 10.1%。全国农民工人均月收入 3962 元, 比上年增长 6.5%, 脱贫攻坚成效明显。2019 年, 按照每人每年 2300 元(2010 年不变价)的农村贫困标准计算, 年末农村贫困人口 551 万人; 贫困发生率 0.6%, 比上年下降 11 个百分点。全年贫困地区农村居民人均可支配收入 11567 元, 比上年增长 11.%, 扣除价格因素, 实际增长 8.0%。2015 年-2019 年末全国农村贫困人口和贫困发生率。



71. 2019年全国农村居民人均可支配收入中位数比上年增加约(B)元

- A. 1230 B. 1320 C. 1380 D. 1403

72. 按2019年全国农民人均月收入的增速增长, 2020年农民人均年收入, ()

- A. 4219.5 B. 4354.8 C. 50634 D. 51638

答案: C

73. 2015~2019年年末, 全国农村贫困人口数年平均约()万人。

- A. 减少 1152 B. 减少 1256 C. 增加 1152 D. 增加 1256

答案: B

74. 2019年, 下列选项中, 相差百分点最大的是()

- A. 全年全国居民人均可支配收入的增速与城镇居民人均可支配收入中位数的增速
- B. 全年全国农村居民人均可支配收入的增速与城镇居民人均可支配收入的增速
- C. 全年全国农村居民人均可支配收入的增速与全国农民工人均月收入增速二学季
- D. 扣除价格因素, 全年全国贫困地区农村居民人均可支配收入增速与农村居民人均可支配收入增速

答案: D

75. 根据资料, 下列说法正确的是 ()

- A.2019 年年末, 全国农村贫困人口数比 2015 年减少近 5000 人
- B.2019 年年末, 全国农村贫困人口数比上年年末降低了近 67%
- C.2019 年, 全国贫困发生率比 2017 年上升 2.5 个百分点
- D.2019 年, 全国贫困地区农村居民人均可支配收入比上年增长近 10%

答案: B

材料二 2019 年, G 市社会消费品零售总额完成 1380.41 亿元, 同比增长 6.2%, 增速较前三季度提高 0.6 个百分点。其中, 限额以上单位实现消费品零售 864.44 亿元, 同比增长 3.0%, 增速比 1~ 11 月提高 0.8 个百分点。2019 年, 按经营地分, 全市城镇消费品零售额 1237.25 亿元, 同比增长 7.8%;乡村消费品零售额 143.16 亿元, 同比下降 5.8%。按消费类型分, 商品零售额 1261.50 亿元, 同比增长 5.6%;餐饮收入 118.90 亿元, 同比增长 13.4%。2019 年, G 市限额以上单位, 粮油食品类零售额 71.97 亿元, 同比增长 20.6%;饮料类零售额 10.09 亿元, 同比增长 15.5%;中西药品零售额 30.36 亿元, 同比增长 13.6%;烟酒类零售额 53.16 亿元, 同比下降 4.8%;文化办公用品零售额 11.04 亿元, 同比增长 12.2%;日用品类零售额 30.92 亿元, 同比下降 15.5%;化妆品零售额 15.31 亿元, 同比增长 12.8%;金银珠宝类零售额 6.09 亿元, 同比增长 18.2%。指标绝对量(亿元)同比增长(%) 地区生产总值 4039.60 7.4 按产业分第一产业 161.34 5.6 第二产业 1496.67 8.2 第三产业 2381.59 7.0 按行业分农

林牧渔业 172.61 5.6 工业 869.00 6.5 建筑业 627.67 11.0 交通运输、仓储和邮政业 256.85 7.2 批发和零售业 264.42 5.9 住宿和餐饮业 86.13 5.8 金融业 482.36 5.9 房地产业 269.97 4.9 其他服务业 101.59 8.3。

根据资料，回答下列问题

76.2018 年，G 市地区生产总值中第一产业与第二产业的绝对量差额最接近（ ）亿元

A.1335 B.1310 C.1280 D.1230

答案：D

77.2019 年，G 市建筑业和房地产业在全市地区生产总值中占比为（ ）。

A. 18.4% B.21.9% C.22.2% D. 24.1%

答案：C

78. 2019 年，下列 G 市限额以上单位各类零售额同比增长率从低到高排序正确的是（ ）

①粮油食品类②中西药品类 ③烟酒类④化妆品⑤日用品类⑥金银珠宝类

A.③④⑥②①⑤ B.④③⑤②①⑥ C.⑤③④②⑥① D.⑤③④⑥②①

答案： C

79. 若按 2019 年前三季度增速增长，2020 年 G 市社会消费品零售总额约为（ ）亿元。 A.1458 B.1466 C.1570 D.1611

答案： A

80.根据资料，下列选项正确的是（ ）

A.2019 年，按行业分，G 市金融业占地区生产总值的比重最大

B.2019 年，G 市城镇消费品零售额与乡村消费品零售额的差距比上年缩小

C.2019 年，按消费类型分，全市餐饮收入的增速低于商品零售额增速

D.2018 年，全市限额以上单位日用品类零售比饮料类约多 27.9 亿元 第 33 页

参考答案： D

主观题参考解析

第一题：某部门因工作需要关注到某大型网络平台发起的“身处各行各业的普通人，目前可以为祖国做些什么”讨论。请根据“给定资料 4”写一份这次网络讨论的提要供领导参考。（10 分）

要求：全面、准确、简明，不超过 200 字。

【答案解析】

内容提要

一、背景目的：某大型网络平台发起“身处各行业的普通人，目前可以为祖国做些什么”讨论，旨在以此让每个人都明确自身定位，从而为国家为社会做自己的贡献。

二、主要内容：1.工作方面：每个人都是国家的基石，要兢兢业业完成自己工作，创造

应有岗位价值，律师伸张正义，医生提供医疗救助，老师培养人才，职员做好本职工作，
公
务员做实事，不求闻达，为民谋利。2.做人方面：友善对待身边每个人，善待每个同胞。

**第二题：“给定资料 4”中提到，“只要每个人都像个人的样子，国家必然会像国家的样
子”，请根据你对这句话的理解，参考给定资料，结合现实生活，写一篇文章，谈谈你
的认
识。（40 分）**

**要求：（1）题目自拟；（2）中心明确，见解深刻；（3）内容充实，有说服力；（4）
思
路清晰，语言流畅；（5）1000 字左右。**

【答案解析】

标题：小个体，大中国

第一段：背景案例（疫情时期的每个人）+过渡句+总论点（每个人的行为、模样都会
折射一个国家，一个民族的样子和模样，每个人都做好自己该做的，国家就会有希望和
未来，国家也才会是一个真实，有血肉的概念）。

第二段：社会是由每个个体组合而成，社会的创造本质上是人的创造。（如教师、医生、
普通人、公务员…）

第三段：“天下兴亡，匹夫有责”，时代赋予每个人应有的责任和担当。（如疫情期间的
最美逆行者）

第四段：一人为人，三人为众，汇聚小力量，才能凝聚国家力量。（如经济建设、社会，建设、文化建设等）

第五段：结尾【照应主题】